



Deutsch







	erledigt ✓
AB 1 Was hast du am Wochenende erlebt? Male und schreibe! Verwende in jedem Satz ein Adjektiv!	
AB 2	
AB 3	

Mathe

AB 1	
AB 2	
AB 3	

Mein Wochenende


Male!



Name: _____

Datum: _____


AB 2





Z wie Zitrone 





Finde zu jedem Buchstaben ein Obst, ein Gemüse oder ein anderes gesundes Nahrungsmittel!


 A


 B


 C


 D


 E


 F


 G


 H


 I


 J


 K


 L


 M


 N


 O


 P


 Q


 R


 S


 T


 U

 V

 W

 X (weglassen)

 Y (weglassen)

 Z

Lies die Sätze genau.



In jedem Satz ist ein Wort zu viel. Streiche es durch.



Schreibe die Sätze richtig ab.

1. Heute ist ein windiger Wolke Tag.

2. Carla spielt laufen gerne Fußball.

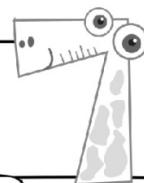
3. Der bunt Wind weht stark.

4. In einem Heft kannst du schreiben Schule.

5. Im Sommer schmeckt schön Eis gut.

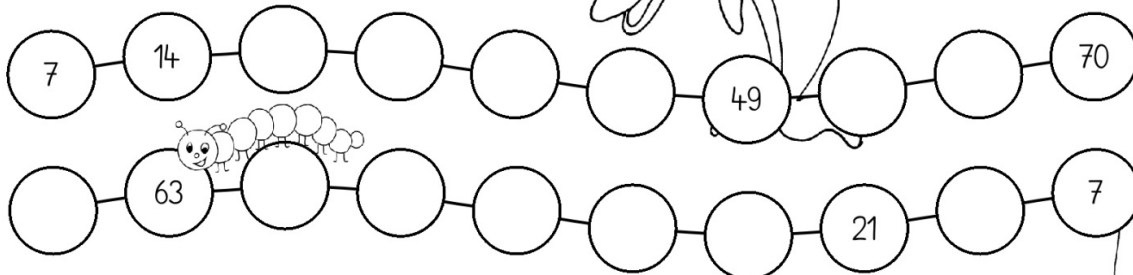

6. Die Klasse Sonne 2c3 ist immer fleißig.

Schreibe hier die falschen Wörter:



1

Vervollständige die Reihen!



2

Auf dem Flohmarkt werden 7 Schachteln mit Legosteinen verkauft. In einer Schachtel sind 6 Legosteine.




Frage: Wie viele Legosteine gibt es auf dem Flohmarkt zu kaufen?

Rechnung:

Antwort: Auf dem Flohmarkt gibt es ___ Legosteine zu kaufen.

3

Fülle die Lückenaufgaben aus!



- | | | | |
|----------------------------------|----------------------------------|----------------------------------|----------------------------------|
| $6 \cdot 7 = \underline{\quad}$ | $9 \cdot 7 = \underline{\quad}$ | $4 \cdot 7 = \underline{\quad}$ | $1 \cdot 7 = \underline{\quad}$ |
| $8 \cdot 7 = \underline{\quad}$ | $5 \cdot 7 = \underline{\quad}$ | $10 \cdot 7 = \underline{\quad}$ | $3 \cdot 7 = \underline{\quad}$ |
| $7 \cdot 7 = \underline{\quad}$ | $2 \cdot 7 = \underline{\quad}$ | $3 \cdot 7 = \underline{\quad}$ | $4 \cdot 7 = \underline{\quad}$ |
| $\underline{\quad} \cdot 7 = 63$ | $\underline{\quad} \cdot 7 = 56$ | $\underline{\quad} \cdot 7 = 49$ | $\underline{\quad} \cdot 7 = 7$ |
| $\underline{\quad} \cdot 7 = 70$ | $\underline{\quad} \cdot 7 = 14$ | $\underline{\quad} \cdot 7 = 21$ | $\underline{\quad} \cdot 7 = 63$ |
| $\underline{\quad} \cdot 7 = 28$ | $\underline{\quad} \cdot 7 = 42$ | $\underline{\quad} \cdot 7 = 35$ | $\underline{\quad} \cdot 7 = 49$ |



Schnelles Rechnen



Schaue auf die Uhr. Wie viele Minuten brauchst du?

$1 \cdot 2 = \underline{\quad}$

$4 \cdot 6 = \underline{\quad}$

$6 \cdot 3 = \underline{\quad}$

$3 \cdot 6 = \underline{\quad}$

$4 \cdot 4 = \underline{\quad}$

$9 \cdot 6 = \underline{\quad}$

$8 \cdot 5 = \underline{\quad}$

$8 \cdot 3 = \underline{\quad}$

$2 \cdot 10 = \underline{\quad}$

$1 \cdot 8 = \underline{\quad}$

$6 \cdot 6 = \underline{\quad}$

$10 \cdot 8 = \underline{\quad}$

$6 \cdot 9 = \underline{\quad}$

$8 \cdot 5 = \underline{\quad}$

$1 \cdot 8 = \underline{\quad}$

$10 \cdot 3 = \underline{\quad}$

$3 \cdot 2 = \underline{\quad}$

$9 \cdot 10 = \underline{\quad}$

$8 \cdot 2 = \underline{\quad}$

$8 \cdot 4 = \underline{\quad}$

$9 \cdot 6 = \underline{\quad}$

$4 \cdot 3 = \underline{\quad}$

$3 \cdot 5 = \underline{\quad}$

$7 \cdot 6 = \underline{\quad}$

$5 \cdot 3 = \underline{\quad}$

$1 \cdot 5 = \underline{\quad}$

$8 \cdot 4 = \underline{\quad}$

$6 \cdot 6 = \underline{\quad}$

$3 \cdot 4 = \underline{\quad}$

$7 \cdot 3 = \underline{\quad}$

$8 \cdot 5 = \underline{\quad}$

$3 \cdot 2 = \underline{\quad}$

$1 \cdot 9 = \underline{\quad}$

$3 \cdot 9 = \underline{\quad}$

$8 \cdot 8 = \underline{\quad}$

$2 \cdot 6 = \underline{\quad}$

$9 \cdot 2 = \underline{\quad}$

$6 \cdot 10 = \underline{\quad}$

$9 \cdot 8 = \underline{\quad}$

$2 \cdot 10 = \underline{\quad}$

$3 \cdot 5 = \underline{\quad}$

$9 \cdot 10 = \underline{\quad}$

$8 \cdot 10 = \underline{\quad}$

$8 \cdot 9 = \underline{\quad}$

$4 \cdot 6 = \underline{\quad}$

$9 \cdot 8 = \underline{\quad}$

$2 \cdot 8 = \underline{\quad}$

$3 \cdot 8 = \underline{\quad}$

Ich habe _____ Minuten gebraucht.



Wie viel Geld ist in den Geldbeuteln?
Schreibe den Betrag jeweils auf 2 Arten auf.

AB 3



57 € 50 ct

57,50 €



















